

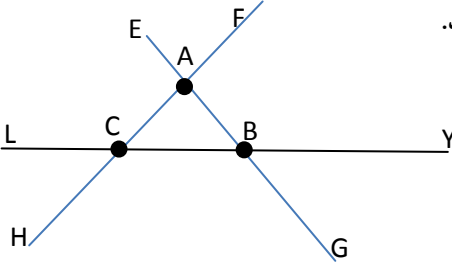
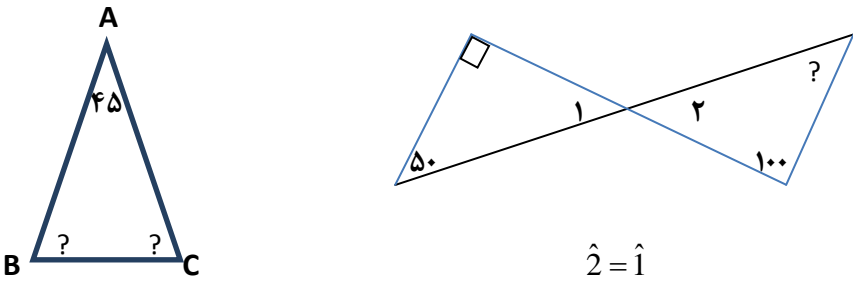


	<p>۱ چه کسری کم دارد تا دو واحد کامل شود؟ با رسم شکل کسر $\frac{9}{4}$</p>	
	<p>۲ در جای خالی عدد مناسب قرار دهید؟</p> $\frac{35}{24} = \frac{10}{24}$ $\frac{14}{30} = \frac{45}{30}$	
	<p>۳ ساده کنید.</p> $\frac{36 \times 18 \times 49}{30 \times 27 \times 21}$	
	<p>۴ حاصل جمع و تفریق زیر را به کمک محور اعداد بدست آورید؟</p> $2\frac{3}{5} + 1\frac{1}{2} =$  $4\frac{1}{2} - 2\frac{3}{6} =$ 	
	<p>۵ کارگری روز اول $\frac{1}{3}$ و روز دوم $\frac{2}{4}$ باقیمانده از دیواری را رنگ کرده. چه کسر پیرنگ نشده است؟ (با رسم شکل)</p>	
	<p>۶ حاصل عبارت زیر را بدست آورید؟</p> $1\frac{1}{2} - 1\frac{1}{3} =$ $1\frac{1}{2} + 1\frac{2}{3} =$	
	<p>۷ زمینی دو هکتار می باشد. کشاورزی $\frac{1}{4}$ زمینش را گندم و $\frac{2}{5}$ آنرا جو کاشت. چند متر مربع از زمین را کاشته است؟ (هر هکتار ۱۰۰۰۰ متر مربع)</p>	
	<p>۸ حاصل عبارت زیر را بدست آورید؟</p> $(54/105 + 23/47) - 15/204 =$	
	<p>۹ به کمک محاسبه ی مساحت حاصل ضرب زیر را بدست آورید؟</p> $1/4 \times 2/1 =$ <div style="border: 1px solid black; width: 150px; height: 40px; margin-left: 100px;"></div>	

برگه دوم		
10	توضیح دهید چگونه میتوان کسره‌های زیر را به صورت اعشاری نوشت؟ $\frac{12}{5} =$ $\frac{473}{25} =$	
11	کوچکترین مخرج مشترک بین کسره‌های زیر را بدست آورید؟ $\frac{3}{12}, \frac{1}{3}, \frac{4}{18}$ $\frac{7}{30}, \frac{2}{5}$	
12	تقسیم زیر را تا دو رقم اعشار انجام دهید؟ $38 \overline{) 1/8}$	
13	در جای خالی عدد مناسب بگذارید. ۲۴۷۵ گرم کیلو گرم . ۴/۰۷ متر سانتیمتر.	
14	در شکل زیر تعداد نیم خط‌ها را با نظم پیدا کنید.  A= B= C=	
15	با توجه به رابطه‌ی بیان شده در هر شکل بجای ؟ چه عددی باید نوشت؟  $\hat{2} = \hat{1}$ AC مساوی AB	
16	با تقریب کمتر از ۱۰ و ۰/۱ عددهای زیر را به روش قطع کردن و گرد کردن بنویسید. ۳۲۱/۴۵۲ و با تقریب کمتر از ۱۰ ۷۸/۶۵۴ و با تقریب کمتر از ۰/۱	

موفق باشید
 علاج: ماکسار