

🌸 فارسی (مهارت نوشتاری) 🌸



۱- کلمه‌های زیر را به شکل مناسب، جمع ببند. (ان - ها - ات)

اطلاع ◀ لغت نامه ◀ دانشمند ◀
 روستا ◀ دانشگاه ◀ معلم ◀
 لحظه ◀ استاد ◀ تعطیل ◀

۲- شش کلمه از درس دهم پیدا کن که آخر آن‌ها «تنوین» داشته باشد.

..... ، ،
 ، ،

۳- کلماتی از درس دهم پیدا کن که یکی از شکل‌های «ث - س - ص» داشته باشد.

ث ◀
 س ◀
 ص ◀

۴- رنگ بزن. (کلمه‌های مفرد قرمز و کلمه‌های جمع زرد)

لحظات	معلمین	حجره	کلمات
متن	لغت	کتب	لحظه
اشخاص	ریاضیات	کلمه	فصول



۵- هر کلمه با کدام بخش کامل می‌شود و به کار می‌رود؟ (به هم وصل کن.)



نده
گذار
گی
ترین

جاودانه
همسایه
خوان
سرمایه

۶- ادامه بده. (باتوجه به متن درس دهم)

لغت نامه، مهم ترین و

۷- از بین کلمه‌های زیرشش کلمه انتخاب کن و با هر دو کلمه یک جمله بنویس.
 سرشار - حافظه - لغت‌نامه - معلومات - دهخدا - تألیف - اهمیت - مفصل - شهرت - حقیقت

جمله‌ی الف) ◀

 جمله‌ی ب) ◀

 جمله‌ی ج) ◀

۸- معنای ضرب‌المثل زیر را در سه سطر با زبان ساده و زیبا بنویس.
 «کارِ نیکو کردن از پُر کردن است»

.....

۹- کلمات زیر را با «مند» یا «انگیز»، ترکیب کن .



خاطره + ◀
 هیجان + ◀
 دانش + ◀
 نشاط + ◀
 درد + ◀

۱۰- کلماتی از درس یازدهم را که یکی از شکل‌های «ت - خ - ط - ج - ذ - ص - ا - ط» را داشته باشد، پیدا کن و بنویس.
 ، ، ،
 ، ، ،

۱۱- با توجه به متن درس یازدهم ، ادامه بده.

آفتاب در حال

.....

۱۲- برداشت خود را از ضرب‌المثل زیر به زبان ساده بنویس.

«مُشک آن است که خود بیوید، نه آن که عطار بگوید»

.....

ریاضی

۱- در جاهای خالی عدد یا عبارت درست را بنویس.

(الف) یکی از منابع مهم درآمد دولت است.

(ب) در صورتی که کسری باشد، درصد آن بیش تر از ۱۰۰ می شود.

(ج) علم آمار علم ، و بررسی آنهاست.

(د) در آمار اطلاعات جمع آوری شده را می گویند.



۲- ۴۵٪ شربت، شکر است. این موضوع را به سه صورت بنویس.

(الف)

(ب)

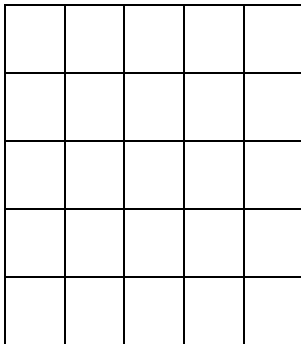
(ج)



۳- مالیات بر ارزش افزوده چیست؟

۴- یک شرکت فرش فروشی هنگام فروش فرش خود باید ۴ درصد مالیات بر ارزش افزوده بگیرد. به این ترتیب یک فرش ۶۰۰۰۰۰ تومانی را چه قدر به فروش می رساند؟

۵- ۲۴٪ شکل داده شده را رنگ کن.



؟؟؟




۶- ۱۰٪ از ۴۰ تا بیش تر است یا ۴۰٪ از ۱۰ تا؟

۷- قیمت یک ماشین لباسشویی ۶۵۰۰۰۰ تومان است. به این کالا ۳٪ مالیات (قبل از تخفیف) تعلق می گیرد. اگر این کالا را

با ۲۰٪ تخفیف فروخته شود، برای خرید چند تومان باید پرداخت؟



۸ - تقریباً ۳۰٪ از ۴۰۰ خانوادگی روستای جعفرآباد دامپرور و بقیه کشاورزند. چند خانواده کشاورز هستند؟



۹ - تساوی‌های زیر را کامل کن.

$$\frac{11}{10} = \frac{\dots}{\dots}$$



$$0.75 = \frac{\dots}{10} = 75\%$$



$$0.25 = \frac{\dots}{10} = \dots$$

$$\frac{2}{10} = \frac{\dots}{\dots}$$

۱۰ - تقریباً $\frac{1}{5}$ حجم هوا اکسیژن و $\frac{4}{5}$ آن نیتروژن است. چند درصد از هوا اکسیژن و چند درصد نیتروژن است؟

۱۱ - دو مقدار در چه صورت متناسب‌اند؟ (مثال بزن)

۱۲ - وقتی می‌گوییم کالایی با ۱۵٪ تخفیف به فروش می‌رسد، یعنی چه؟

۱۳ - با یک مثال توضیح دهید چگونه یک کسر را به صورت درصد نمایش می‌دهند؟

۱۴ - نمودار چیست؟ کاربرد نمودارها را در علم آمار بنویس.

۱۵ - در مورد جمع‌آوری اطلاعات به روش‌های «سرشماری» و «نمونه‌گیری» هر چه می‌دانی بنویس. (با مثال)



۱۶- انواع نمودار کدامند؟ کاربرد هر کدام را بنویس.

۱۷- ارزشیابی درس ریاضی دانش آموزان کلاس دوم دبستان شکوفه انقلاب به شرح زیر است:

(خیلی خوب: ۱۲ نفر - قابل قبول: ۶ نفر - نیاز به تلاش بیش تر: ۲ نفر)

الف) کدام نمودار برای این موضوع مناسب تر است؟

ب) نمودار مورد نظر را رسم کن.

ج) سهم هر بخش را به صورت درصد محاسبه کن.

۱۸- اگر میانگین دمای هوای شهر بروجرد در ۱۲ ماه یک سال به صورت زیر باشد:

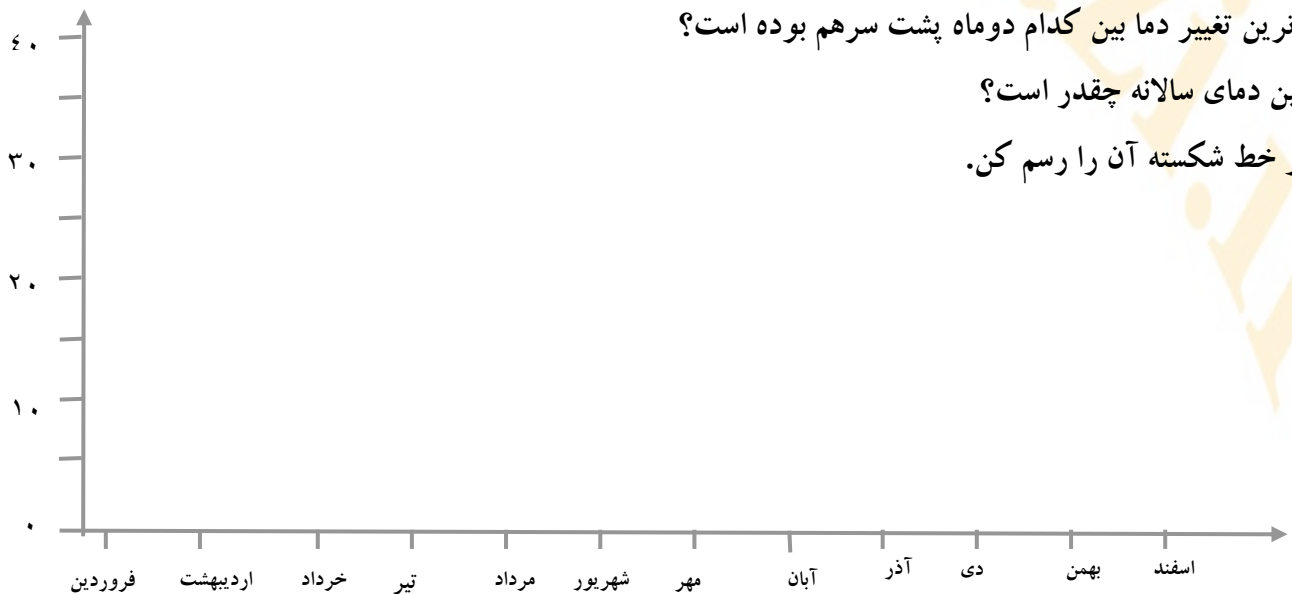
ماه	فروردین	اردیبهشت	خرداد	تیر	مرداد	شهریور	مهر	آبان	آذر	دی	بهمن	اسفند
دما	۱۳	۱۷	۲۱	۲۸	۳۶	۳۱	۲۰	۱۸	۱۴	۸	۹	۱۲

الف) گرم ترین و سردترین ماه در این شهر کدامند؟

ب) بیش ترین تغییر دما بین کدام دو ماه پشت سرهم بوده است؟

ج) میانگین دمای سالانه چقدر است؟

د) نمودار خط شکسته آن را رسم کن.



۱۹- مجموع دو عدد ۵۶ است. اگر عددها را ۱۲ تا بیش تر از دیگری باشد، هر یک از عددها را پیدا کن. (حدس و آزمایش)

۲۰ - نمرات دروس نوبت اول خود را با یک نمودار نشان بده.



مطالعات اجتماعی



۱- در جاهای خالی عبارت درست را بنویس.

- (الف) برای استفاده از اوقات فراغت باید مناسب داشته باشیم.
 (ب) مکان‌های عمومی گذران اوقات فراغت متعلق به هستند.
 (ج) به تولید یک کالا به یک شکل و به تعداد زیاد می‌گویند.
 (د) پارچه از درست می‌شود و ممکن است یا باشد.
 (ه) مقدار پولی که می‌توانیم برای انجام یک کار یا خرید بپردازیم، نام دارد.
 (و) در می‌توان انواع لباس‌های محلی را مشاهده کرد.

۲- اوقات فراغت چیست؟



۳- راه‌های استفاده از اوقات فراغت کدامند؟



۴- مردمان گذشته چگونه اوقات فراغت خود را می‌گذراندند؟

۵ - چه بازی‌هایی می‌شناسید که از گذشته تا به حال رایج هستند؟



۶ - نام چند مکان عمومی برای گذراندن اوقات فراغت بنویس.

۷ - در مکان‌های عمومی چه آداب و مقرراتی را باید رعایت کنیم؟ (دو نمونه را بنویس.)

۸ - آیا ما در تمام موقعیت‌های مختلف، یک نوع لباس می‌پوشیم؟ (پاسخ خود را توضیح بده)

۹ - آب و هوا چه تأثیری بر لباس پوشیدن مردم آن نواحی دارد؟



۱۰ - پوشاک ما در زمستان و تابستان چه تفاوت‌هایی با هم دارند؟



۱۱ - درباره‌ی لباس‌های محلی چه می‌دانی؟

۱۲ - آیا امروزه هم از لباس‌های محلی استفاده می‌شود؟

۱۳- پوشاک ایرانیان در گذشته به چه شکل بوده است؟



۱۴- به نظر شما چرا لباس های محلی را در موزه های مردم شناسی حفظ و نگهداری می کنند؟




۱۵- تولید لباس در گذشته و حال را باهم مقایسه کن.



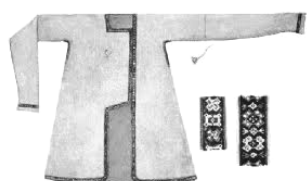
۱۶- نخ مورد نیاز کارخانه های تولید پوشاک چگونه تهیه می شود؟

۱۷- به نظر شما این همه لباس چگونه تولید می شود و به دست ما می رسد؟



۱۸- خط تولید چیست؟ (با مثال توضیح بده).

۱۹- چگونه لباس مناسب را انتخاب کنیم و بخریم؟



۲۰ - نظر شما درباره‌ی حجاب و پوشش مناسب چیست؟



۲۱ - چگونه لباسی انتخاب کنیم که با باورهای دینی ما تناسب داشته باشد؟

۲۲ - کیفیت و قیمت لباسی که انتخاب می‌کنیم، چگونه باید باشد؟

هدیه‌های آسمان

۱- در جاهای خالی عبارت درست را بنویس.

(الف) خدای مهربان برای ما در این دنیا و قرار داده است که رعایتش به نفع ماست.



(ب) نماز یکی از است و رعایت آن انسان را به بهشت می‌رساند.

(ج) پوشیدن هرگونه لباسی که توجه نامحرم را جلب کند، است.

(د) مسافر باید نمازهای چهار رکعتی ظهر و عصر را بخواند.

(و) مسافری که می‌خواند، نباید روزه بگیرد.

۲ - منظور از محرم و نامحرم چیست؟

۳ - پدر بزرگ درباره‌ی حجاب به مریم چه گفت؟



۴ - در جدول زیر افراد محرم را سبز و افراد نامحرم را قرمز کن.

پسر دایی	شوهر عمه	عمو	دختر خواهر	دختر عمو	پسر برادر
خاله	مادر بزرگ	پسر خاله	دختر دایی	پدر	خواهر

۵ - حجاب برای دخترها به چه شکلی است؟



۶ - احکام مربوط به محرم و نامحرم چه موقع بر ما واجب می شود؟

۷ - دو نمونه از احکام مربوط به محرم یا نامحرم را بنویس.

۸ - خداوند در سوره ی انعام، آیه ی ۱۱ در مورد سفر کردن چه فرموده اند؟

۹ - به نظر شما سفر کردن برای چیست و چه فایده هایی دارد؟

۱۰ - منظور از نماز شکسته چیست؟



۱۱ - در چه زمانی افراد نماز را به صورت شکسته می خوانند؟

۱۲ - چه مسافری در ماه رمضان نمی تواند روزه بگیرد؟

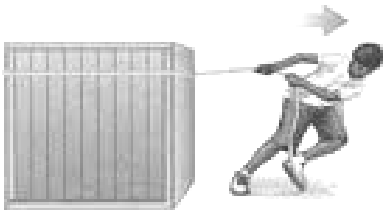
۱۳ - کسی که به خاطر مسافرت روزه نگرفته است، چگونه باید قضای آن را بجا آورد؟

علوم تجربی مج

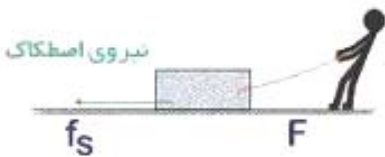
۱- در جاهای خالی عبارت درست را بنویس.

- الف) وقتی اتومبیل در جاده‌ای در حال حرکت است، بر آن اثر کرده و سبب کاهش سرعت آن می‌شود.
 ب) اغلب انرژی لازم برای گرم کردن خانه‌ها و به حرکت درآوردن ماشین‌ها و نیروگاه‌ها به وسیله‌ی تأمین می‌شود.
 ج) بخش عمده‌ی انرژی که ما مصرف می‌کنیم از است.
 د) بعضی از وسایل مانند می‌توانند انرژی را ذخیره کنند.

۲- اصطکاک را بایک مثال توضیح بده.



۳- به نظر شما اگر نیروی اصطکاک وجود نداشت چه اتفاقی می‌افتاد؟



۴- در هر یک از فعالیت‌های زیر نیروی اصطکاک بیش تر باشد بهتر است یا کم تر؟ دلیل خود را بنویس.




الف) اسکی روی یخ یا برف:

ب) گره زدن طناب:

ج) هنگام ترمز کردن ماشین:

د) بالا رفتن از کوه:



۵- به نظر شما نیروی اصطکاک بر کشتی و هواپیمای در حال پرواز هم اثر می‌کند؟ (دلیل خود را بنویس).

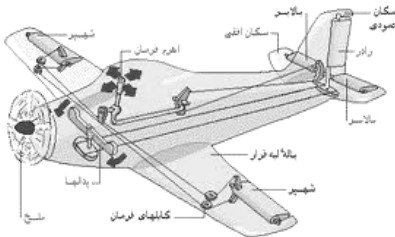
۶- در زمان‌های قدیم برای کاهش اصطکاک از چه روش‌هایی استفاده می‌کردند؟

۷- توضیح دهید یک دانش آموز چگونه می‌تواند، یک چمدان مسافرتی بزرگ را جابه‌جا کند؟




۸ - امروزه برای کم کردن نیروی اصطکاک از چه راه‌هایی استفاده می‌کنند؟

۹ - نیروی مقاومت هوا چیست؟



۱۰ - بال‌های هواپیما را چگونه طراحی می‌کنند؟

۱۱ - نیروی بالابری چیست؟



۱۲ - موتور الکتریکی چیست؟ آیا تاکنون از موتور الکتریکی استفاده کرده‌اید؟ چگونه؟

۱۳ - اگر موتور الکتریکی نباشد، برای به حرکت درآوردن وسیله‌ها از چه چیزهایی می‌توان استفاده کرد؟



۱۴ - انرژی در چه موادی ذخیره می‌شود؟

۱۵ - انرژی الکتریکی چگونه به انرژی‌های دیگر تبدیل می‌شود؟