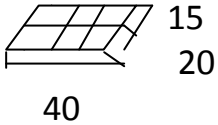
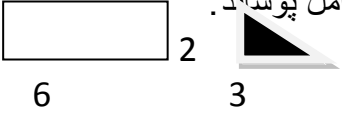
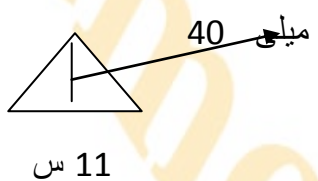
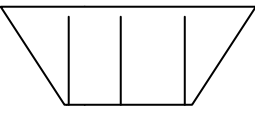


نام و نام خانوادگی تهیه و تنظیم: سارا جلالی		فصل 6 و 7		پایه ششم دبستان شاهد گرگان	
0/5	1	می خواهیم با کنار هم قرار دادن تاس ها بزرگترین مکعب را بسازیم اگر برای این کار 220 تاس در اختیار داشته باشیم چند تاس اضافی خواهد ماند؟			
		الف- 4	ب- 6	ج- 95	د- 24
0/5	2	آب درون پارچ را در لیوان های به حجم یک دوم لیتر خالی کردیم با توجه به شکل رو به رو حجم یا گنجایش پارچ با عدد مخلوط کدام گزینه است؟			
		الف- $4\frac{1}{2}$	ب- $1\frac{1}{2}$		
		ج- $2\frac{1}{2}$	د- 3		
0/5	3	برادر کوچک علی پر تحرک است و یک روز وقتی که در خانه می دوید پایش به قندان گیر کرد و حبه های قند روی زمین ریخت شکل رو به رو این حبه ها را نشان می دهد. اگر قبل از بیرون ریختن حبه ها بدانیم که قندان پر بوده حجم قندان چند سانتی متر مکعب بوده است. (\square 4 سانتی متر مکعب)			
		الف- 9	ب- 18	ج- 36	د- 27
1	4	یک چهارم پارچی را در یک جا یخی خالی کردیم و جا یخی پر شده است با توجه به شکل حجم یا گنجایش کل پارچ برابر است با: طول و عرض و ارتفاع به ترتیب 40-20-15			
					
0/75	5	7500000 میلی متر مربع دسی متر مربع است.			
		یک متر مربع دسی متر مربع و برابر است با سانتی متر مربع			
0/5	6-	کدام گزینه درست است؟ مساحت مستطیلی با طول 100 سانتی متر و عرض 8 دسی متر 8000 متر مربع است مساحت مثلث قائم الزاویه ای به اضلاع 3 و 4 متر ، 12 متر مربع است . مساحت مثلثی به طول قاعده 8 سانتی متر و ارتفاع 4 سانتی متر ، 16 سانتی متر مربع است. مساحت مربعی به ضلع 20 سانتی متر ، 400 متر مربع است.			
0/5	7	کدام واحد برای اندازه گیری فرش مناسب است؟ سانتی متر مربع ب- متر مربع ج- سانتی متر مکعب د- متر مکعب			
0/5	8	با چند مثلث قائم الزاویه رنگ شده زیر می توان سطح مستطیل را به طور کامل پوشاند.			
					
		الف- 4	ب- 6	ج- 8	د- 10

0/5	اگر تاس را 120 بار بیندازیم احتمالاً چند بار عدد 2 می آید .	9
0/5	تاس را 6 بار می اندازیم هر 6 بار عدد 5 می آید احتمال این که برای هفتمین بار عدد 5 بیاید چقدر است؟	10
1	مساحت مثلث رو به رو : 	11
1	احتمال این که 2 سکه را پرتاب کنیم هر دو پشت بیاید چقدر است؟	12
1	در یک کیسه 10 مهره با شماره ی 10- 9- مهره با شماره 9 و 8 مهره با شماره 8 و .. 1 مهره با شماره 1 وجود دارد با چشمان بسته چند مهره برداریم تا مطمئن شویم از هر شماره یک مهره داریم . الف-10 ب- 55 ج-45 د-44	13
0/5	2000000 میلی متر مربع دسی متر مربع است.	14
0/5	2 کیلو متر مربع دسی متر مربع است .	15
0/5	30000000 میلی متر مکعب متر مکعب است.	16
1	از بین مقسوم علیه های عدد 12 به غیر از 1 و 3 یک عدد را می خواهیم انتخاب کنیم احتمال آن که عدد انتخاب شده فرد باشد چقدر است؟	17
0/5	علی به یک سوال 4 گزینه ای ریاضی جواب داده است احتمال این که درست جواب داده باشد چقدر است؟	18
0/5	تاس را می اندازیم احتمال این که عدد رو شده مقسوم علیه 12 باشد چقدر است؟	19
0/5	معدل 5 درس علی 18 شده مجموع نمرات علی چند است؟	20

1/5	<p>ارتباط دهید</p> <p>1 - بعد از دوشنبه سه شنبه می آید.</p> <p>2 - اگر خوب تمرین کنم قهرمان المپیک می شوم .</p> <p>3 - اگر توپ را به سمت حلقه بسکتبال بیندازم گل می شود .</p> <p>ممکن غیر ممکن قطعا</p>	21
1	احتمال اتفاق افتادن یک پیشامد عددی بین و است.	22
0/5	برای مقایسه داده ها از نمودار استفاده می شود.	23
0/5	7500000 میلی متر مربع دسی متر مربع	24
0/5	شکل گسترده استوانه را بکشید.	25
1/5	<p>شکل رو به رو تصویر از بالای یک حجم هندسی می باشد اگر ارتفاع این حجم 3 سانتی متر باشد حجم آن برابر است با (مساحت هر مربع 1 سانتی متر مربع)</p> 	26
1	هر مکعب مستطیل دارای وجه (سطح) و راس می باشد.	27
0/25	احتمال این که روز تولد شما شنبه نباشد چه کسری است؟	28
0/25	احتمال این که یک نوزاد خانواده ی آقای بخشینانی در تیر ماه به دنیا بیاید چقدر است؟	29
0/25	اگر در امتحان تستی که 4 گزینه دارد یک گزینه به تصادف انتخاب شود احتمال غلط بودن آن چقدر است ؟	30
	موفق باشید عزیزان من	