



۱- جاهای خالی را کامل کنید.

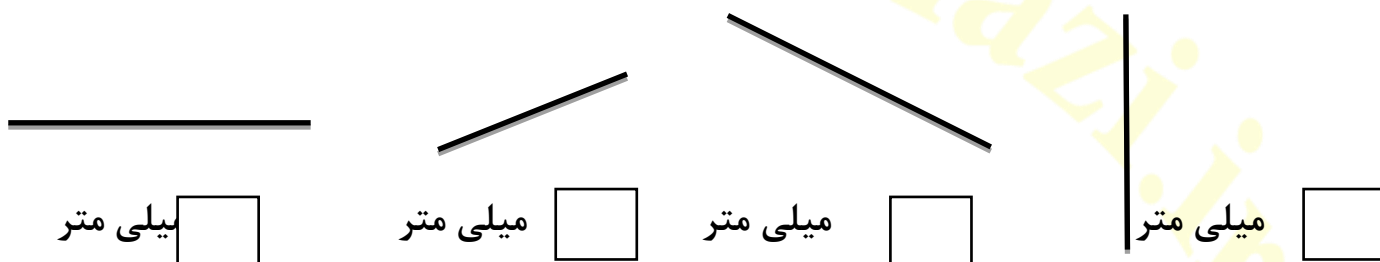
الف ( ۱۲ میلی متر همان ..... سانتی متر و ..... میلی متر است .

ب ( ۱۷ میلی متر همان ..... سانتی متر و ..... میلی متر است .

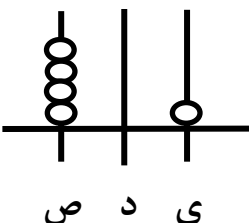
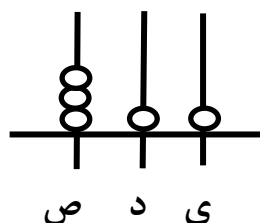
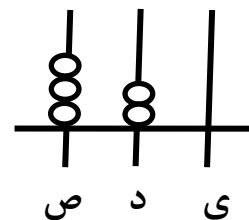
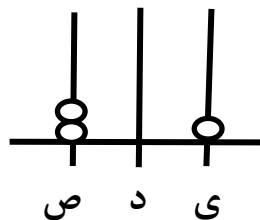
ج ( ۲۶ میلی متر همان ..... سانتی متر و ..... میلی متر است .

د ( ۳۹ میلی متر همان ..... سانتی متر و ..... میلی متر است .

۲- اندازه خط های زیر را با خط کش اندازه بگیرید و وسط هر خط را مشخص کنید.



۳- ابتدا عددی را که شکل نشان می دهد بنویسید و علامت  $< = >$  بگذارید:



۴- ابتدا جمع و تفریق ها را انجام دهید و حاصل را کنار هر کدام بنویسید و سپس جواب ها را با هم مقایسه کنید و علامت  $< = >$  بگذارید .

$$\dots\dots\dots = 400 + 20$$



$$500 + 100 = \dots\dots\dots$$

$$\dots\dots\dots = 300 + 100$$




$$200 + 300 = \dots\dots\dots$$

$$\dots\dots\dots = 400 + 400$$




$$800 + 0 = \dots\dots\dots$$

۵- حاصل عبارتهای زیر را به دست آورید و بزرگترین عدد را داخل  بنویسید.

$$300 + 10 + 2 =$$

$$400 + 30 + 8 =$$



$$100 + 80 + 2 =$$

۶- علی ۲ سکه ۱۰۰ ریالی و ۳ سکه ۵ ریالی دارد ، حسین ۲ سکه ۱۰۰ ریالی و ۲ سکه ۱۰ ریالی دارد. کدام یک پول بیش تری دارد ؟

۷- جاهای خالی را کامل کنید .

$$500 - \square = 200$$

$$\square + 400 = 600$$

$$\square - 200 = 700$$

$$600 - \square = 100$$